


Emri e mbiemri _____

SHF „_____”

kl.V _____ Data _____

№ _____ Dita _____



Pikët e fituara



Vlerësoi _____

Prindi _____

Çelësi i vlerësimit 0-14 ①, 15-18 ②, 19-22 ③, 23-26 ④, 27-30 ⑤

gjithësejt 30 pikë

1. Një natë dimri temperatura ka zbritur - $10^{\circ}C$, në mesditë temperatura është ngrit për $8^{\circ}C$.

Temperatura në mesditë është:(rretho përgjigjen e saktë)

3

- a) $+2^{\circ}C$
- b) $-2^{\circ}C$
- c) $+12$

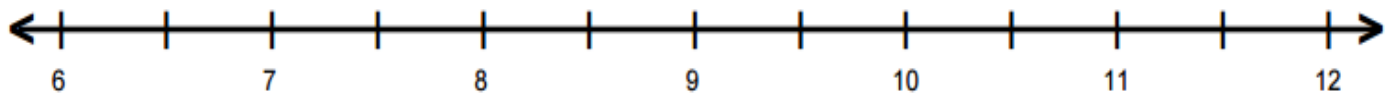
2. Thyesat në vijim shndërroi në numra decimal

3

$$\frac{4}{8} \text{ , (- , -) , } \frac{2}{10} \text{ (- , -) , } \frac{70}{100} \text{ , (- , -) , } \frac{8}{10} \text{ , (- , -) , } \frac{3}{6} \text{ (- , -)}$$

3. Shkruaj shkronjat me vlerat e dhëna në boshtin numerik!

3



A = 8.5


B = 10.5

C = 9.5

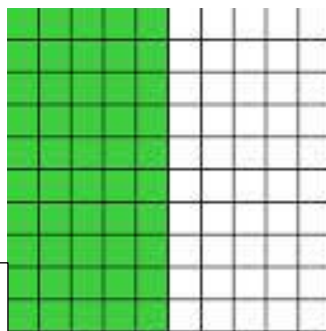
D = 7.5

4. Në figurat e mëposhtme sheno sa përqind e katrorëve nuk janë të ngjyrosur


3



%



%



%

5.Zgjidh detyrat duke plotësuar vendet e zbrazta!

3

$$\frac{2}{4} + \frac{?}{4} = \frac{3}{4}, \frac{?}{4} + \frac{1}{4} = \frac{2}{4}, \frac{2}{5} + \frac{?}{5} = \frac{3}{5}, \frac{4}{5} + \frac{?}{5} = 1, \frac{2}{10} + \frac{?}{10} = \frac{3}{10}$$

6.plotëso tabelën e mëposhtme!

3

| Përqindja | Numri decimal | thyesa |
|------------|---------------|----------------|
| 10% | 0.1 | $\frac{1}{10}$ |
| | | $\frac{6}{10}$ |
| | 0.75 | |
| 20% | | |

7.Teuta ka pasur 40 rruzuj në një kuti ,rruzujt kanë qen ngjyrë të kuqe dhe ngjyrë të kaltër

40 % kanë qen të kuq,sa % rruzuj të kaltër ka pasur në kuti?

3

8.Në një kopsht ka të mbjellur 30 trendafila, $\frac{1}{5}$ e tyre janë ngjyrë të verdhë .Sa trendafila të verdhë ka në at kopsht?

3

9.Në një tekst ka pasur 30 detyra.

3

Leonora është përgjigjur saktë në 20% të pyetjeve Sa % të pyetjeve nuk ju është përgjigjur sakt?

10.Në klasën V-2 ka 20 nxënës prej tyre 75 % janë djem.Sa për qind janë vajza ?

3
