

Emri e mbiemri \_\_\_\_\_  
 SHF „\_\_\_\_\_”  
 kl. V- \_\_\_\_\_ Data \_\_\_\_\_  
 № \_\_\_\_\_ Dita \_\_\_\_\_



Pikët e fituara



Vlerësoi \_\_\_\_\_

Prindi \_\_\_\_\_

Testi përmban 10 pyetje dhe zgjat 40 minuta.

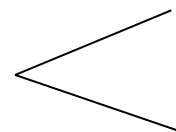
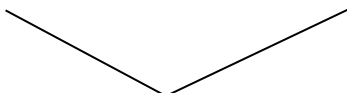
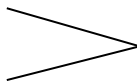
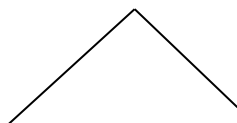
Shkruaj me stilograf!

Përmirësimet nuk pranohen.

Çelësi i vlerësimit 0-50 ①, 51-62 ② 63-75 ③ 76-88 ④ 89-100 ⑤ Gjithsejt 100 pikë

1. Shëno shkallët e këndeve të figurave në vijim (Figurat mati me këndëmatës)

10 □



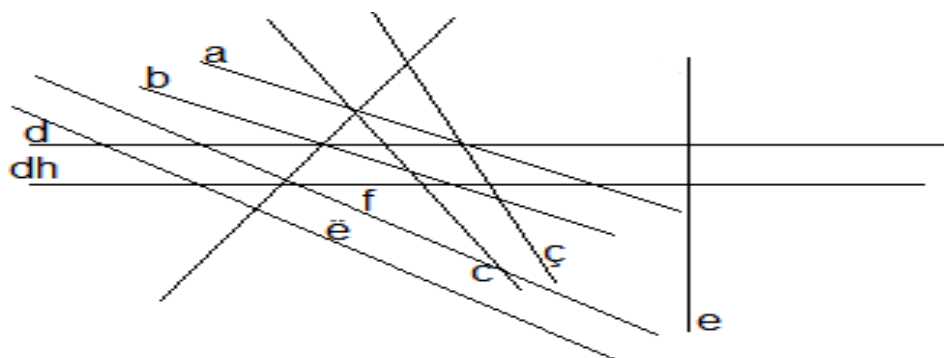
2. Trego cilat njësi matëse janë paraqitur në këto shkallë matëse.

10 □



3. Në fotografi janë të dhëna drejtëzat. Cilat nga drejtëzat janë paralele e cilat normale?

10 □



Drejtëzat paralele \_\_\_\_\_, drejtëzat normale \_\_\_\_\_

4. Shkruaj këto masa në gram

10 □

a) 7 kg \_\_\_\_\_, b) 4 kg \_\_\_\_\_, c) 6 kg \_\_\_\_\_, ç) 5.5 kg \_\_\_\_\_, d) 60kg \_\_\_\_\_, dh) 35.5kg \_\_\_\_\_

5.Renditi këto masa prej më të madhës deri te më e vogla. (sheno vetëm shkronjat )

10

a) 8 Ton, b)6000 g, c)5.4 kg, ç)890 g, d)165791 g, e) 51000 g, ë)354 g f)5.5 ton

6.Këto enë jan të mbushura me njësitë matëse litër(l) dhe mililitër(ml)shkruaj njësitë

matëse të sakta për çdo njëjërën prej enëve. (njësitë Shënoi me shkurtesa ) 1 l =1000 ml

10



50 \_\_\_\_\_



50 \_\_\_\_\_



15 \_\_\_\_\_



200 \_\_\_\_\_



2 \_\_\_\_\_



5 \_\_\_\_\_



40. \_\_\_\_\_



100 \_\_\_\_\_

7.Shkruaj në mililitra vëllimet e dhëna.

10

a)2 litra \_\_\_\_\_,

b) 15.2 litra, \_\_\_\_\_

c) 16 litra, \_\_\_\_\_

ç) 13 litra \_\_\_\_\_

d) 6.5 litra, \_\_\_\_\_

dh) 1 litër \_\_\_\_\_

8.Shkruaj këto kohëra me fjalë.

10

a)16 : 30

b)18:50,

c)14 : 30,

ç) 4 : 40

9. Ditëlindja e Leartës është më 20 prill ,kurse ditëlindja e Bleartës është më 20 tetor.

10

Blearta sa muaj më vonë do ta festojë ditëlindjen?

Arta \_\_\_\_\_muaj më vonë do ta festojë ditëlindjen e saj.

10.Njehso sa muaj dhe vite ka prej shtatorit 2011 deri në prill 2016,  
prej korrikut 2005 deri në shtator 2011

10