

Emri e mbiemri \_\_\_\_\_  
 SHF „\_\_\_\_\_”  
 kl. V- \_\_\_\_\_ Data \_\_\_\_\_  
 № \_\_\_\_\_ Dita \_\_\_\_\_

NOTA



Pikët e fituara



Vlerësoi \_\_\_\_\_

Prindi \_\_\_\_\_

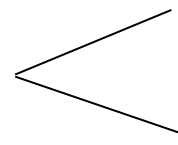
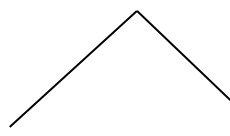
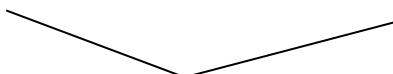
Testi përmban 10 pyetje dhe zgjat 40 minuta.

Shkruaj me stilograf!

Përmirësimet nuk pranohen.

Çelësi i vlerësimit 0-50 ①, 51-62 ②, 63-75 ③, 76-88 ④, 89-100 ⑤ Gjithsejt 100 pikë

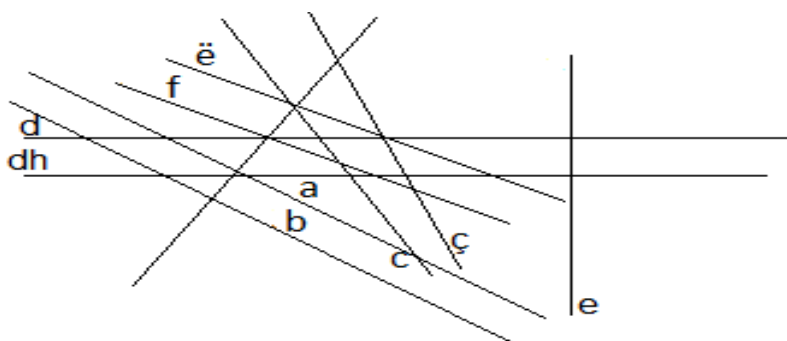
1. Shëno shkallët e këndeve të figurave në vijim (Figurat mati me këndëmatës)

10 

2. Trego cilat njësi matëse janë paraqitur në këto shkallë matëse.

10 

3. Në fotografi janë të dhëna drejtëzat. Cilat nga drejtëzat janë paralele e cilat normale?

10 

Drejtëzat normale \_\_\_\_\_, drejtëzat paralele \_\_\_\_\_

4. Shkruaj këto masa në gram

10 

a) 6 kg \_\_\_\_\_, b) 5 kg \_\_\_\_\_, c) 3 kg \_\_\_\_\_, ç) 4.4 kg \_\_\_\_\_, d) 30kg \_\_\_\_\_, dh) 25.5kg \_\_\_\_\_

5.Renditi këto masa prej më të madhës deri te më e vogla. (sheno vetëm shkronjat )

10

a) 7 Ton, b)4000 g, c)7.5 kg, ç)760 g, d)125390 g, e) 213000 g, ë)545 g

6.Këto enë jan të mbushura me njësitë matëse litër(l) dhe mililitër(ml)shkruaj njësitë

matëse të sakta për çdo njërën prej enëve. (njësitë Shënoi me shkurtesa )  $1\ell=1000\text{ ml}$

10



7.Shkruaj në mililitra vëllimet e dhëna.

10

a)3 litra \_\_\_\_\_,

b) 16.2 litra, \_\_\_\_\_

c) 14 litra, \_\_\_\_\_

ç) 11 litra \_\_\_\_\_

d) 5.5 litra, \_\_\_\_\_

dh) 1 litër \_\_\_\_\_

8.Shkruaj këto kohëra me fjalë.

10

a)17 : 40 \_\_\_\_\_

b)19:50, \_\_\_\_\_

c)11 : 30, \_\_\_\_\_

ç) 1 : 20 \_\_\_\_\_

9. Ditëlindja e Artës është më 10 maj ,kurse ditëlindja e Artinës është

10

më 10 nëntor.Artina sa muaj më vonë do ta festojë ditëlindjen?  
Artina \_\_\_\_\_muaj më vonë do ta festojë ditëlindjen e saj.

10.Në një kopsht të pentarisë kopshtari i kopshtit vjeljen e parë e ka vjelë pas tri vitesh.Sa muaj ka prit kopshtari deri në vjeljen e parë?

10

Kopshtari ka prit \_\_\_\_\_muaj deri në vjeljen e parë të frutave.