

Emri e
mbiemri _____
SHF „ _____ ”
kl. V- _____ Data _____
№ _____ Dita _____



Pikët e
fituara



Vlerësoi _____

Prindi _____

Testi përmban 10 pyetje dhe zgjat 40 minuta.

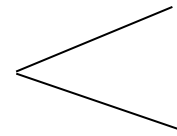
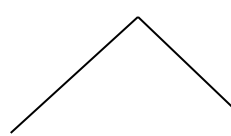
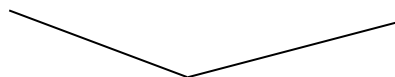
Shkruaj me stilograf!

Përmirësimet nuk pranohen.

Çelësi i vlerësimit 0-50 ①, 51-62 ② 63-75 ③ 76-88 ④ 89-100 ⑤ **Gjithsejt 100 pikë**

1. Shëno shkallët e këndeve të figurave në vijim (Figurat mati me këndëmatës)

10



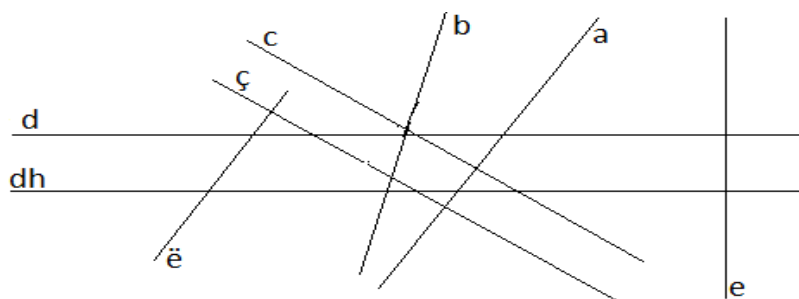
2. Trego cilat njësi matëse janë paraqitur në këto shkallë matëse.

10



3. Në fotografi janë dhëna drejtëzat. Cilat nga drejtëzat janë paralele e cilat normale?

10



Drejtëzat normale _____

Drejtëzat paralele _____

4. Shkruaj këto masa në gram

10

a) 6 kg _____, b) 5 kg _____, c) 3 kg _____, ç) 4.4 kg _____, d) 30kg _____, dh) 25.5kg _____

5.Renditi këto masa prej më të madhës deri te më e vogla. (sheno vetëm shkronjat)

10

a) 7 Ton, b)4000 g, c)7.5 kg, ç)760 g, d)125390 g, e) 213000 g, ë)545 g

6.Këto enë jan të mbushura me njësitë matëse litër(l) dhe mililitër(ml)shkruaj njësitë

matëse të sakta për çdo njërën prej enëve. (njësitë Shënoi me shkurtesa) 1 l =1000 ml

10



7.Shkruaj në mililitra vëllimet e dhëna.

10

a)3 litra _____,

b) 16.2 litra, _____

c) 14 litra, _____

ç) 11 litra _____

d) 5.5 litra, _____

dh) 1 litër _____

8.Shkruaj këto kohëra me fjalë.

10

a)17 : 40

b)19:50,

c)11 : 30,

ç) 1 : 20

9. Ditëlindja e Artës është më 10 maj ,kurse ditëlindja e Artinës është

10

më 10 nëntor. Artina sa muaj më vonë do ta festojë ditëlindjen?

Artina _____muaj më vonë do ta festojë ditëlindjen e saj.

10.Në një kopsht të pemtarisë kopshtari i kopshtit vjeljen e parë e ka vjelë pas tri vitesh.

10

Sa muaj ka prit kopshtari deri në vjeljen e parë?

Kopshtari ka prit _____muaj deri në vjeljen e parë të frutave.....