

Emri e mbiemri \_\_\_\_\_ kl.IV-\_\_\_\_ N<sup>o</sup> \_\_\_\_\_ Data \_\_\_\_\_

Pikët e fituara \_\_\_\_\_ nota \_\_\_\_\_ Mësimdhënësi \_\_\_\_\_ Prindi \_\_\_\_\_

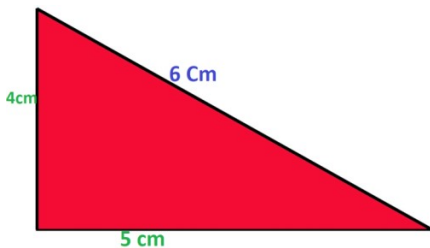
Testi përmban 10 pyetje dhe zgjat 40 minuta. Shkruaj me stilograf! Përmirësimet nuk pranohen.

Çelësi i vlerësimit 0-20 ①, 21-40 ②, 41-60 ③, 61-80 ④, 81-100 ⑤ Gjithsejt 100 pikë

1. Shuma e gjatësive të brinjëve të secilës formë 2D quhet \_\_\_\_\_ 10 pikë

2. Agroni nga peri bëri një trekëndësh, brinjët e të cilit ishin 6 cm, 5 cm, dhe 4 cm. Sa është i gjatë peri e Agronit?

10 pikë



3. Llogaritni perimetrin e figurave në fotografi



10 pikë

4. Astriti e ndihmoi gjyshin e tij ta rrrhonte vreshtine tij, vreshti kishte formë drejtkëndëshi me gjatësi 13 metra dhe gjërësi 9 metra. Sa metra tel i duhen për ta rrethuar vreshtin e tij?

10 pikë

5. Dritarja me formë katrore është e mbështjellë me shirit mbrojtës të gjatë 36 dm.

Sa është e gjatë sejcila anë e dritarës?

10 pikë

6. Llogarit perimetrin e drejtkëndëshit që ka brinjë fqinje me

gjatësi 30 mm dhe 5 cm. \_\_\_\_\_

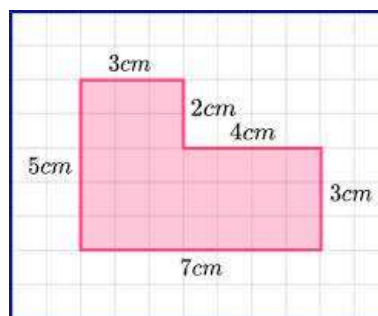
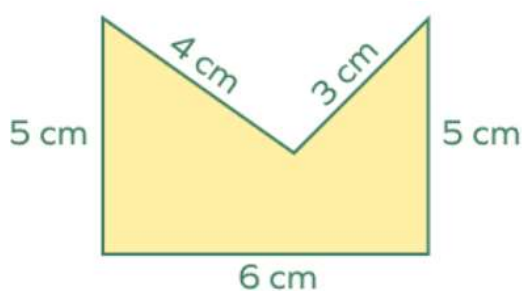
10 pikë

7. Katrori ka brinjë 60 mm, kurse drejtkëndëshi ka brinjë me gjatësi 50 mm dhe 7 cm.

Cila formë ka perimeter më të vogël? \_\_\_\_\_

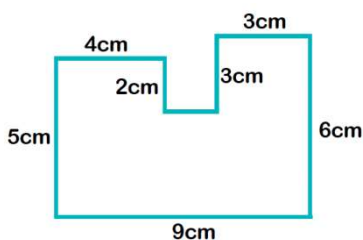
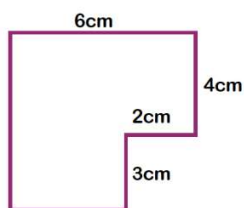
10 pikë

8. Llogarit perimetrin e figurave të mëposhtme.



10 pikë

9. Llogarit perimetrin e figurave të mëposhtme.



10 pikë

10. Tryeza me formë katrore ka perimeter 360 cm. Sa centimetra është e gjatë sejcila anë e tryezës? \_\_\_\_\_

10 pikë