

Emri e mbiemri _____ kl.IV- _____ № _____ Data _____

Pikët e fituara _____ nota _____ Mësimdhënësi _____ Prindi _____

Testi përmban 10 pyetje dhe zgjat 40 minuta. Shkruaj me stilograf! Përmirësimet nuk pranohen.

Çelësi i vlerësimit 0-20 **1**, 21-40 **2**, 41-60 **3**, 61-80 **4**, 81-100 **5** Gjithsejt 100 pikë



1. Koha gjat së cilës akrepi i vogël kalon nga një numër në numrin tjetër quhet:

_____ 10 pikë

2. 1 orë ka _____ minuta 10 pikë

3. 1 minutë ka _____ sekonda 10 pikë

4. Periudha kohore prej 10 vjetësh quhet _____ 10 pikë

5. Periudha kohore prej 100 vitesh quhet _____ 10 pikë

6. Shndërroi vitet në dekada

a) 30 vjet = , 45 vjet = , 90 vjet =

65 vjet = , 71 vjet = , 39 vjet =

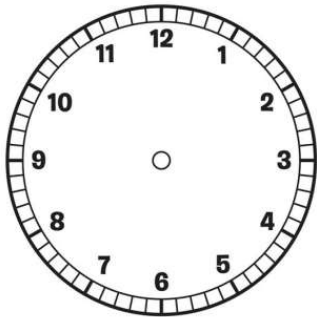
b) Shndërro në vjet: 2 shekuj _____, Shndërro në muaj: $\frac{1}{3}$ e vitit _____

Shndërro në minuta : $1\frac{1}{3}$ orë _____ min. 10 pikë

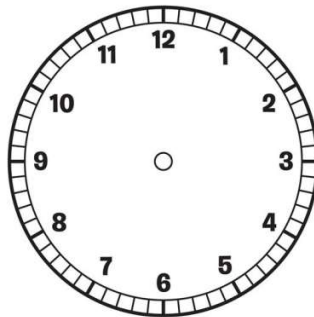
7.Urata e kishte ditëlindjen me 5 mars,kurse Taulanti e kishte 20 ditë më vonë.kur është ditëlindja e Taulantit?

10 pikë

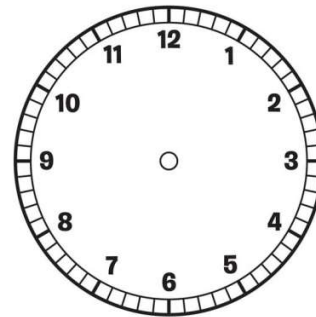
8.Vizatoni akrepat e secilës orë në mënyrë që ora ta tregoj kohën e dhënë.



12:30




10:20




8:15

10 pikë

9. Eda fillon stërvitjet ora 9:10 minuta kurse Vleroni fillon stërvitjet ora 10:30 minuta.Paraqiti kohën e fillimit të stërvitjes së Edës dhe vleronit me akrepa.



Eda



Vleroni

10 pikë

10.Babai i Anuarit është nisur për në punë ora 8:15.Ai kthehet nga puna në orën 16:05 minuta.Sa kohë babai i Anuarit nuk është në shtëpi?

10 pikë