

Tema:puna me të dhëna




Emri e mbiemri _____ kontrolloi _____ Prindi _____



Dafina bëri një anketë me një grup nxënësish të klasës së katërt.Ajo dëshironte të dijë se cili ishte sporti i tyre i preferuar.

Në pyetësor ajo parashtroi këto disciplina:hendbolli,futbolli,basketbolli dhe volejbolli.Gjat intervistës nga grupi i nxënësve të klasës së e katërt mori këto përgjigje:

2 nxënës –hendboll,4 nxënës-futboll,3 basketboll,1nxënës-volejbolli.

			
2	4	3	1

Ndihmoi Dafinës të krijojë grafikun shtyllor me të dhënat e lartëshenuara.(ngjyros diagramin)



Me sukses

Pjesërisht

Me ndihmën e arsimtarit